

12 < 11 たしざん

なまえ

てん

1 7+4の けいさんの しかたを せつめいしましょう。

① 7は あと で 10。

② 10の まとまりを つくる ために、

4を と 1に わける。

③ 7に を たして 10。

④ 10と で 11。

⑤ だから、 $7+4=$ です。

2 たしざんを しましょう。

① $9+2=$ ② $8+5=$

③ $4+9=$ ④ $5+7=$

⑤ $3+8=$ ⑥ $7+7=$

⑦ $9+8=$ ⑧ $8+7=$


⑨ $7+9=$ ⑩ $6+6=$

3 こたえが 15に なるように、 に かずを かきましょう。

① $9+$

② $+8$

4 みかんが かごに 6こ、ふくろに 5こ あります。 あわせて なんこ ありますか。



(しき)

こたえ

5 じゅんさんは ほんを きのう 8ページ よみました。 きょう 4ページ よみました。 ぜんぶで なんページ よみましたか。

(しき)

こたえ

こたえの おおきい ほうを とおって ゴールに いきましょう。

スタート

$7+6$ $8+3$

$6+8$ $9+7$

$8+8$ $6+9$

$5+7$ $4+9$

$8+6$ $6+7$


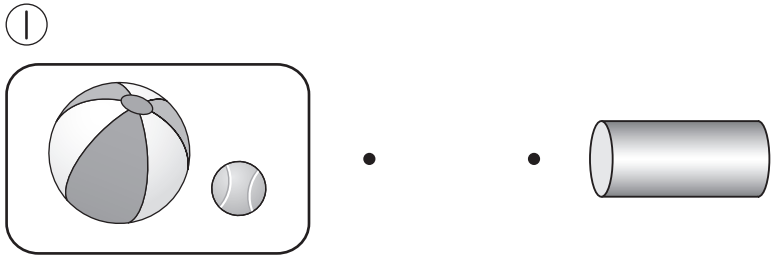
ゴール

13

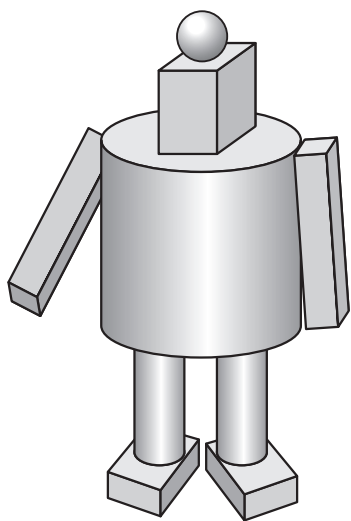
12 かたちあそび

なまえ _____ てん _____

1 3つの なかまと にて いる かたちを、せん で おすびましょう。



2 したの ロボットは、
 ①、②、③の なかまの かたち
 なんこ ありますか。



① の なかま こ

② の なかま こ

③ の なかま こ

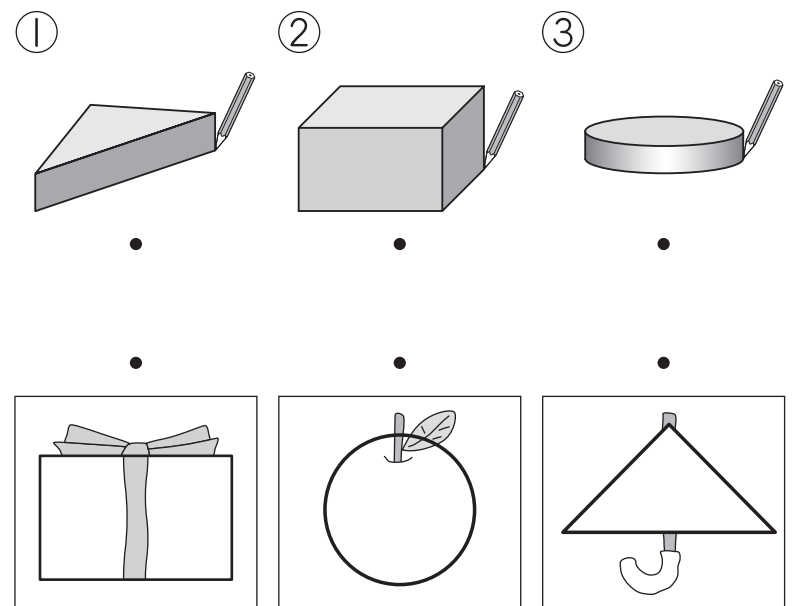
3 かたちを あてる ゲームを
 します。

かえでさんの もって いる
 かたちは どれですか。

ころがす ことも、
 つむ ことも
 できる かたちです。



4 つみきの かたちを かみに
 うつして、えを かきました。
 どの つみきを つかいましたか。
 せん で おすびましょう。



かたちを かみに うつして
 しかくの バスを かきます。
 あなたなら、なにの かたちを
 うつして かきますか。

14 < 13 ひきざん

なまえ

てん

1 11-7の けいさんの しかたを せつめいしましょう。

- ① 1から 7は ひけないので、 11を と 1に わける。
- ② 10から を ひいて 3。
- ③ 3と で 4。
- ④ だから、11-7= です。

2 ひきざんを しましょう。

- ① 12-9= ② 13-6=
- ③ 15-7= ④ 11-2=
- ⑤ 13-8= ⑥ 12-6=
- ⑦ 11-5= ⑧ 18-9=
- ⑨ 16-8= ⑩ 14-7=

3 こたえが 7に なるように、 に かずを かきましょう。


- ① 11-
- ② 15-

4 りんごが 15こ ありました。 9こ あげました。 りんごは、なんこ のこって いますか。

(しき)

こたえ

5 バスが 14だい、トラックが 6だい とまって います。 バスと トラックの ちがいは、 なんだいですか。




(しき)

こたえ





こたえが 9に なる カードを ぜんぶ みつけて、せんで かこみましょう。




15 **14** **どちらが おおい** **どちらが ひろい** なまえ てん

1 おおく はいる ほうに ○を かきましょう。

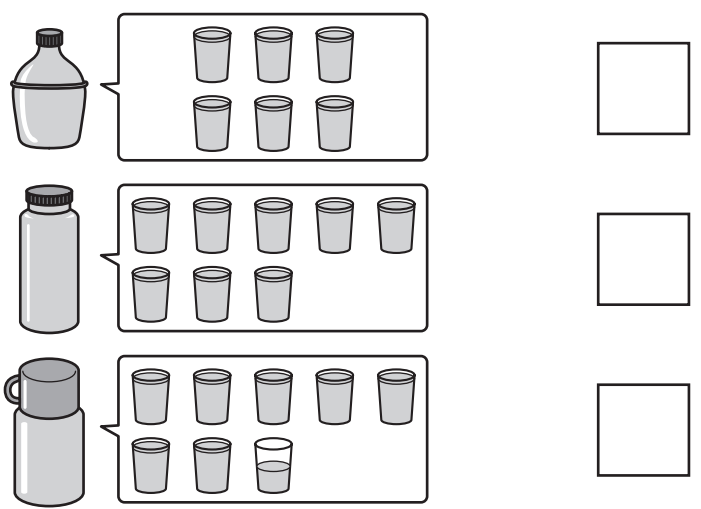
① 

② 

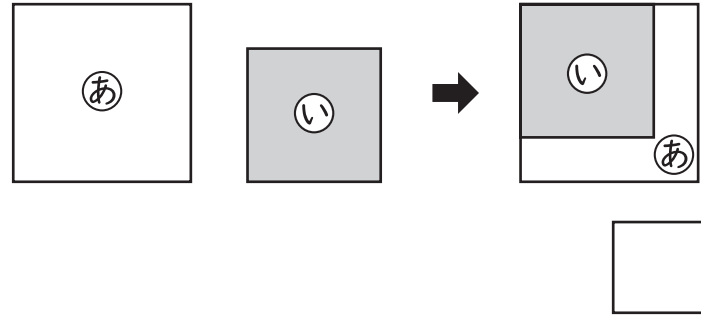
2 みずの たかさは おなじです。いちばん おおく はいって いるものに ○を かきましょう。

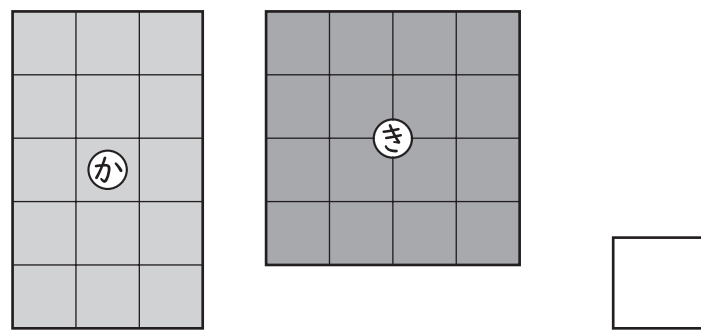


3 いちばん おおく はいって いるものに ○を かきましょう。




4 どちらが ひろいですか。


① 

② 

5 ゆうたさんと ひなたさんが じんとりゲームを しました。どちらが どれだけ ひろいですか。



_____さんの ほうが _____こぶん ひろい。




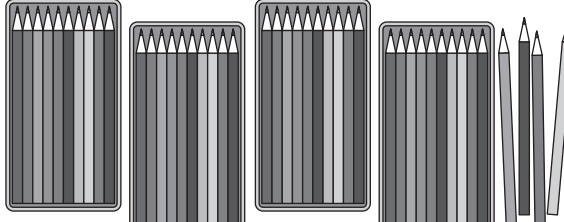
16 < 15 20より大きい かず

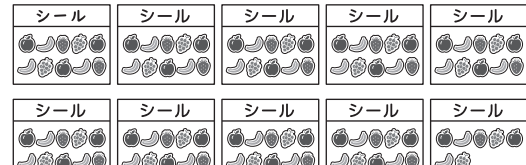
なまえ _____

てん _____

1 かずを すうじて かきましよう。

① 

② 

③ 

2 に かずを かきましよう。

① 10が 5こと、1が 9こで

② 十の位が 7、一の位が 0の
かずは

③ 80は、10を こ あつめた
かずです。

④ 63は、を 6こと
を 3こ あわせた かずです。

3 かずを すうじて かきましよう。

① 81より 3 ちい小さい かず

② 115より 6 おお大きい かず



4 に かずを かきましよう。

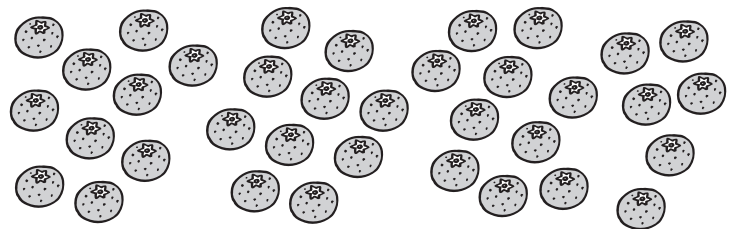
① 53 — 54 — — — 57

② 106 — — 102 — 100 —

5 おお大きい ほうに ○を かきましよう。

① 76 67 ② 102 92

6 みかんの かずを くふうして かぞえます。



① どんな くふうを しますか。

② みかんの かずは なんこですか。



きょうしつなかの 中で
いろいろなかずを
みつけましよう。

17 **16 たしざんと ひきざん** なまえ てん

1 けいさんの しかたを
せつめいしましょう。

• $70 + 3$

① 十の位は 10の まとまりが 7こ。
一の位は $0 + \square$ で、1が \square こ。

② だから、 $70 + 3 = \square$ 。

• $89 - 5$

③ 十の位は 10の まとまりが 8こ。
一の位は、 $\square - \square = 4$ で、
1が \square こ。

④ だから、 $89 - 5 = \square$ 。

2 けいさんを しましょう。

① $50 + 20 = \square$

② $70 + 30 = \square$

③ $80 - 60 = \square$

④ $100 - 10 = \square$

⑤ $40 + 9 = \square$

⑥ $61 + 5 = \square$

⑦ $26 - 6 = \square$

⑧ $97 - 4 = \square$

3 あやなさんは、40円の クッキーと、
10円の あめを かいしました。
あわせて なん円ですか。

(しき)

こたえ

4 バスに 39人 のって いました。
6人 おりました。
のこりは なん人ですか。



(しき)

こたえ




34-4の しきになる
もんだいをつくります。
□にあう ことばを
かきましょう。
また、こたえも
かきましょう。


かいがらを 34こ ひろいました。
いもうとに 4こ 。
 なんこですか。


こたえ


18 **17 なんじ なんぷん** なまえ _____ てん _____

1 なんじ なんぷんですか。


① 


② 

③ 


④ 

2 ながい はりを かきましょう。

① 7じ50ぷん


② 3じ41ぷん


3 えに あう おはなしを つくりましょう。





① から ゆうごはんを たべました。


② から おふろに はいりました。


4 10じ5ふんの とけいは、



あ、い、うの どれですか。

あ 

い 

う 

 もうすぐ 7じに なる とけいは どちらですか。


か  き 

19

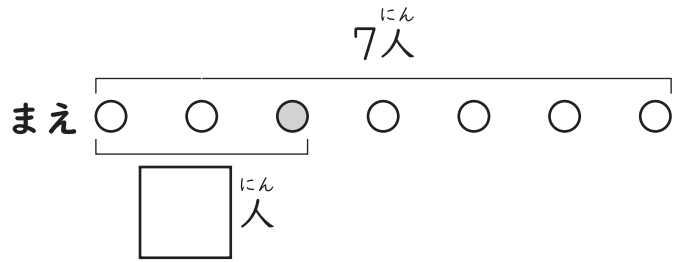
18 ずをつかって かんがえよう

なまえ _____ てん _____

1 パンやに 7人^{にん} ならんで います。かなさんは、まえから 3ばんめです。かなさんの うしろには、なん^{にん}人 いますか。



① □ に かずを かきましょう。

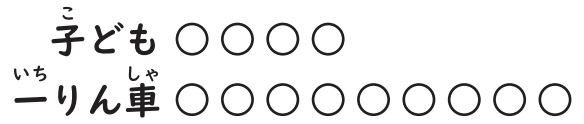



② かなさんの うしろには、なん^{にん}人 いますか。

(しき)

こたえ

2 4人の 子^こどもが 一^{いち}りん^{しゃ}車をつかって います。一^{いち}りん^{しゃ}車は、あと 5だい あります。一^{いち}りん^{しゃ}車は、ぜんぶで なんだい ありますか。

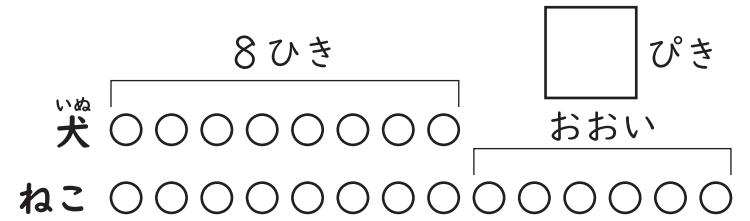


(しき)

こたえ

3 いぬ^{いぬ} 犬が 8ひき います。ねこは、いぬ^{いぬ} 犬より 6ひき おおいです。ねこは なんびき いますか。

① □ に かずを かきましょう。



② ねこは なんびき いますか。

(しき)


こたえ

4 たま^{たま}い 玉入れを しました。けん^{けん}と^とさん^{さん}は 11こ 入^いれました。りん^{りん}さん^{さん}は、けん^{けん}と^とさん^{さん}より 3こ すくなく 入^いれました。りん^{りん}さん^{さん}は なんこ 入^いれましたか。



(しき)

こたえ



4 の もんだいを ずに あらわして みましょう。

けん^{けん}と^とさん^{さん} ○○○○○○○○○○○○○○○○○

りん^{りん}さん^{さん} ○○○○○○○○○○○○○○○○○

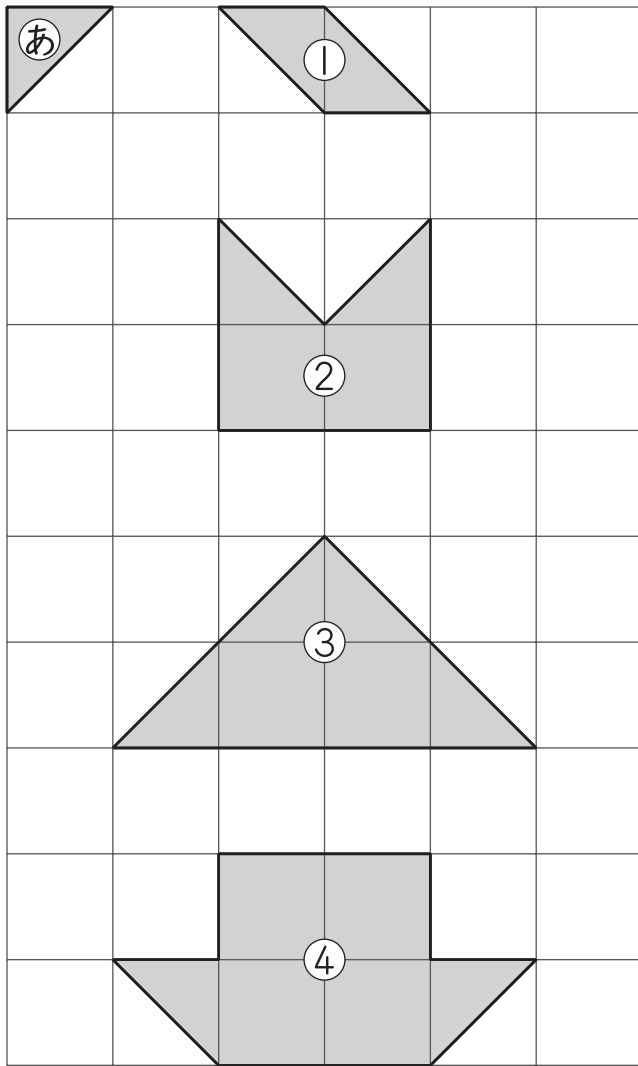
20

19 かたちづくり

なまえ

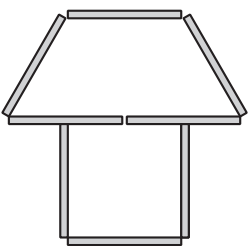
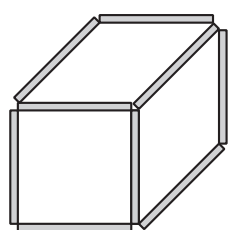
てん

1 ①の いろいろが なんまいで
できますか。



- ① まい ② まい
③ まい ④ まい

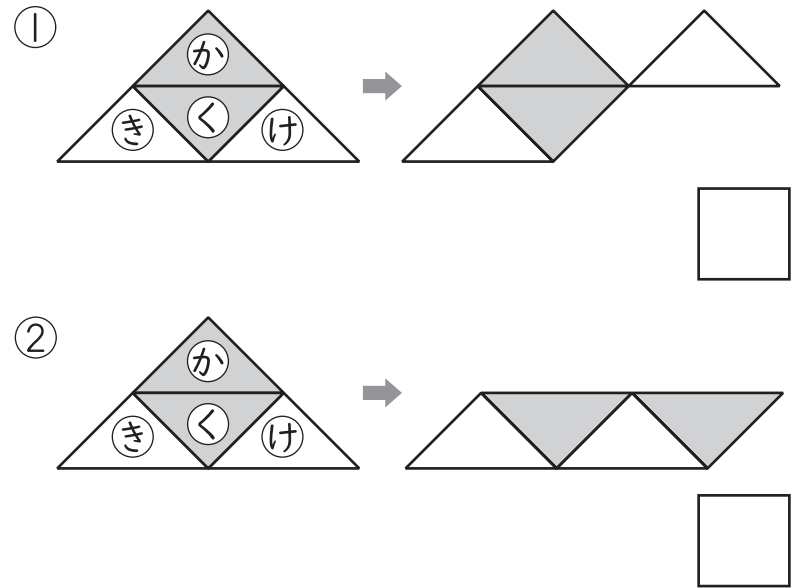
2 ぼうが なん本^{ほん}で できますか。

- ①  ほん
②  ほん

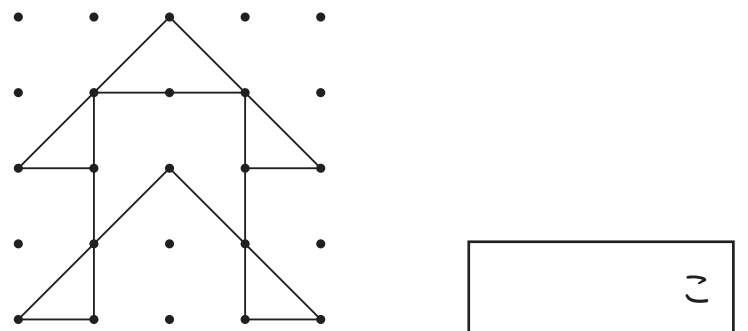
3 いろいろを 1まい うごかして、
かたちを かえました。

うごかした いろいろは、

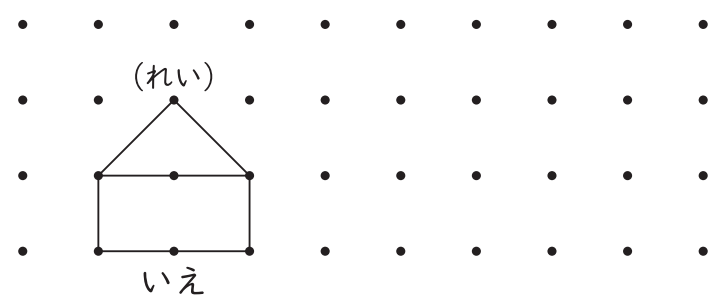
か、き、く、けの どれですか。



4 ・と ・を せんで おすんで
かたちをつくりました。この かたちに、
さんかくは なんこ ありますか。



・と ・を せんで おすんで、
いろいろな かたちをつくりましょう。
できた かたちには なまえも
つけましょう。



21 1年のまとめ① なまえ _____ てん _____

1 せんで かこみましょう。

① うしろから 3わ

まえ うしろ

② うしろから 3ばんめ

まえ うしろ

2 □に かずを かきましょう。

① 10が 2こと、1が 3こで □

② 十の位が 4、一の位が 9の
かずは □

③ 100より 6 大きい かずは □

3 大きい ほうに ○を かきましょう。

①

38	83
□	□

 ②

120	102
□	□

4 □に かずを かきましょう。

①

18	□	□	21	22
----	---	---	----	----

②

5	10	□	20	□
---	----	---	----	---

③

□	100	90	□	70
---	-----	----	---	----

5 けいさんを しましょう。

① $2+5=□$ ② $9+7=□$

③ $8-3=□$ ④ $14-9=□$

⑤ $10-6+5=□$

⑥ $44+1=□$

⑦ $100-20=□$


6 ならんで しゃしんを とります。
はるかさんは、左から 3ばんめです。
はるかさんの 右に 4人 います。
みんなで なん人 いますか。

(しき) □

こたえ □

7 やさいの かずだけ いろを ぬって せいりしましょう。

いちばん おおい
やさいは
どれですか。



ピーマン	トマト	なす

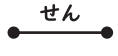
□

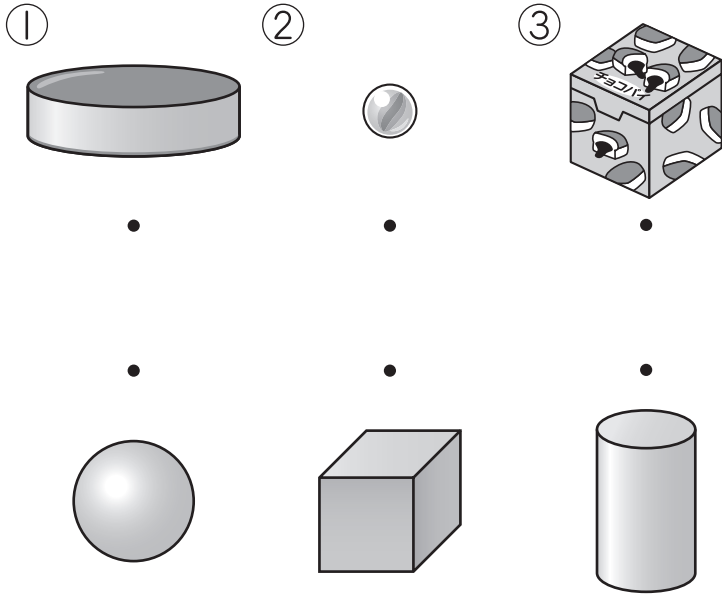
22

1年のまとめ②

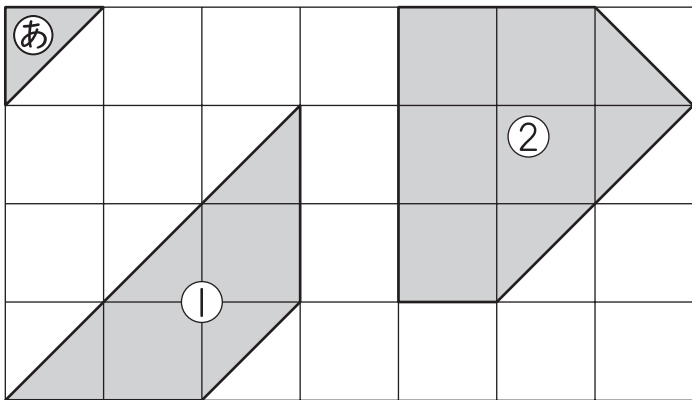
なまえ

てん

1 にて いる かたちを、で
おすびましょう。




2 あ の いろいたが なんまいで
できますか。

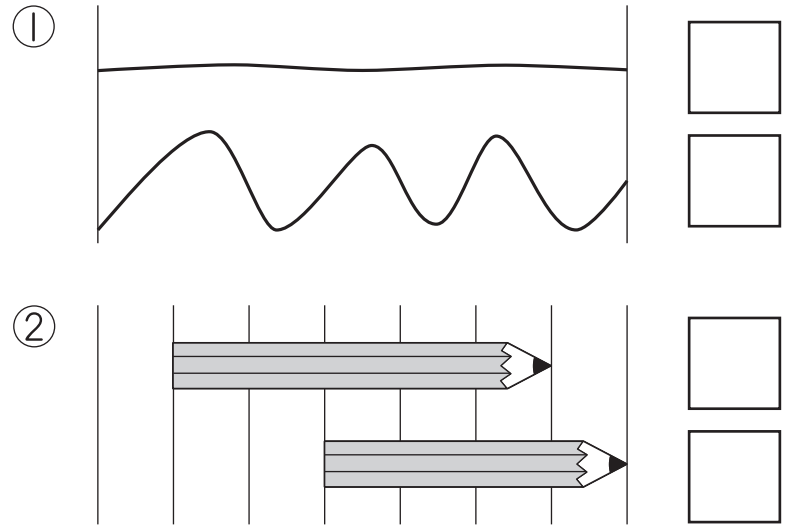


① まい ② まい

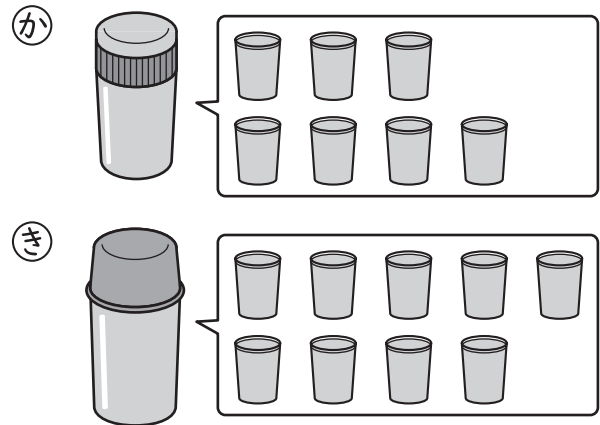
3 なんじ なんぷんですか。




4 ながい ほうに ○を かきましょう。




5 か と き の どちらが どれだけ
おおく はいりますか。



の ほうが
 はいぶん おおい。

6 さ と し の どちらが どれだけ
ひろいですか。



の ほうが
 こぶん ひろい。